



# المستوى: الأولى ابتدائي (1AP) ديسمبر 2021

## اختبار الفصل الأول في التربية العلمية

1- أربط كل صورة بالحاسة المُستعملة فيها :



via indiabix.com (24/07/2021)

2- أربط كل نوع الحركة بالبطاقة :



يقفز



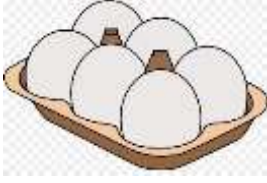


يجري


يمشي



3- أصلُ كُلِّ غِذاءٍ بِمَصْدَرِهِ :



مصدر حيواني



مصدر نباتي



|| بالتوفيق ||

## التصحيح النموذجي

1- أربط كل صورة بالحاسة المُستعمَلة فيها :



2- أربط كل نوع الحَرَكة بِالْبِطَاقَة :




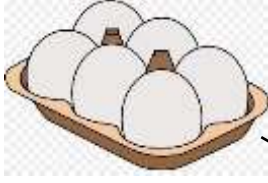
يقفز

يجري


يمشي



3- أَصْلُ كُلِّ غِذَاءٍ بِمَصْدَرِهِ :



مصدر حيواني



مصدر نباتي

