



المستوى: الأولي ابتدائي (1AP) نوفمبر 2021

التقويم الثاني للفصل الأول في الرياضيات

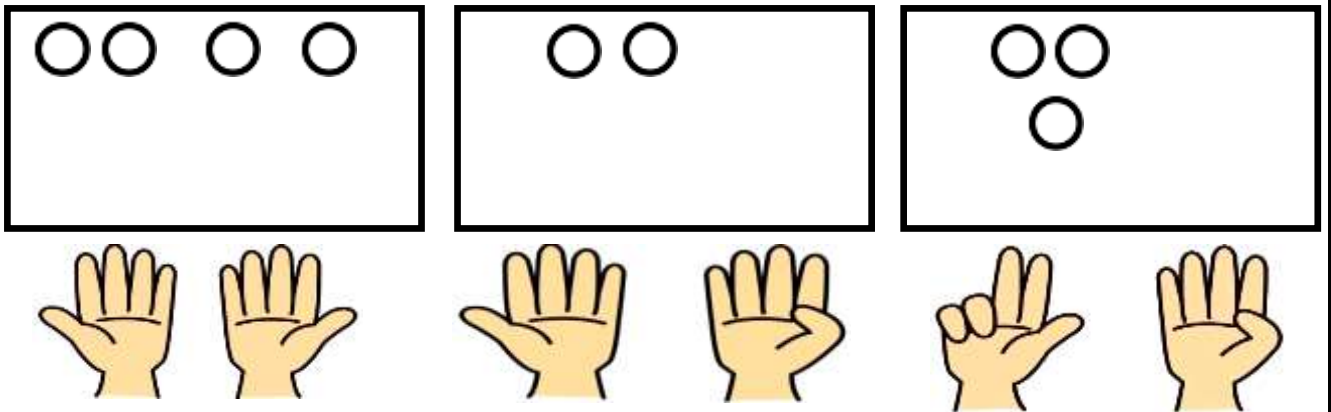
اللقب: الاسم: القسم:

التمرين الأول:

أملأ الفراغ بالعدد المناسب..

...

التمرين الثاني: أكمل رسم القرصات الناقصة.



التمرين الثالث:

1	...	3	...	5	8	...	10
---	-----	---	-----	---	-----	-----	---	-----	----





أد
ثب

العدد المناسب في الفراغ المناسب.


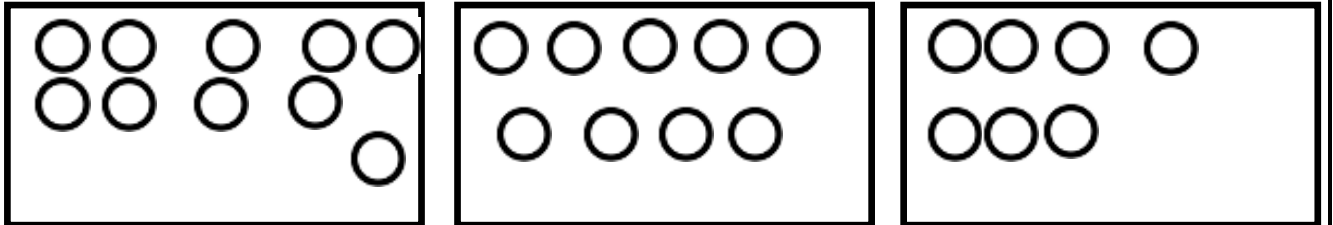
التصحيح النموذجي

التمرين الأول:

أملأ الفراغ بِالْعَدَدِ الْمُنَاسِبِ..

			
10	8	9	6

التمرين الثاني: أكمل رسم القرصيات الناقصة.



التمرين الثالث:

1	2	3	4	5	6	7	8	9	10
---	---	---	---	---	---	---	---	---	----

أَدْ
تُبُّ

الْعَدَدَ الْمُنَاسِبِ فِي الْفَرَاغِ الْمُنَاسِبِ.

