



مارس 2022

المستوى: الأولى ابتدائي (1AP)

اختبار الفصل الثاني في مادة الرياضيات

اللقب: الاسم: القسم:

التمرين الأول:

أُكْتُبُ الأَعْدَادَ بِالأَحْرُوفِ أَوْ بِالأَرْقَامِ :

..... ← 10

..... ← سَبْعَةٌ

..... ← 20

..... ← ثَلَاثُونَ

التمرين الثاني:



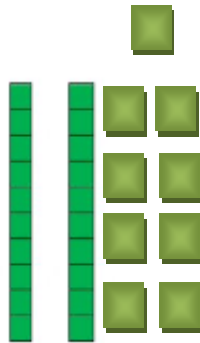
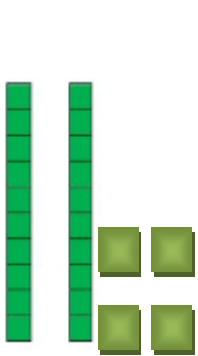
أُرَتِّبُ الأَعْدَادَ التَّالِيَةَ مِنَ الأَكْبَرِ إِلَى الأَصْغَرِ :

7 – 22 – 19 – 38

..... - - - →

التمرين الثالث:

أُكْتُبُ العَدَدَ بِاسْتِعْمَالِ الوَحَدَاتِ وَالْعَشْرَاتِ :



ع	و

ع	و

ع	و

ع	و

التمرين الرابع:

أَكْتُبِ الْعَدَدَ الَّذِي يَسْبِقُ وَالْعَدَدَ الَّذِي يَلِي :

..	21	..
----	----	----

..	38	..
----	----	----

..	19	..
----	----	----

المشكلة:

تَمَلَّكَ رِيهَامَ 6 زَهْرَاتٍ ، أَعْطَتْ لِأُخْتِهَا 3 زَهْرَاتٍ .

● كَمْ زَهْرَةً بَقِيَتْ لِرِيهَامَ ؟

●

● بَقِيَتْ لَهَا زَهْرَاتٍ .

التصحيح النموذجي

التمرين الأول:

اُكْتُبِ الأَعْدَادَ بِالْحُرُوفِ أَوْ بِالْأَرْقَامِ :

10 ← عشرة
20 ← عشرون

7 ← سَبْعَةٌ
30 ← ثَلَاثُونَ

التمرين الثاني:

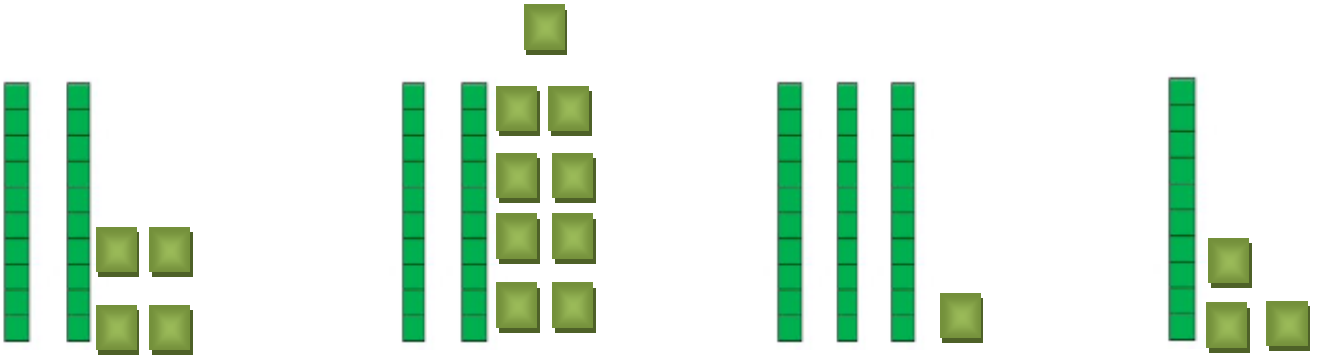
أَرْتِبِ الأَعْدَادَ التَّالِيَةَ مِنَ الأَكْبَرِ إِلَى الأَصْغَرِ :

7 - 22 - 19 - 38

38 - 22 - 19 - 7

التمرين الثالث:

اُكْتُبِ العَدَدَ بِاسْتِعْمَالِ الوَحَدَاتِ وَالْعَشْرَاتِ :



ع	و
2	4

ع	و
2	9

ع	و
3	1

ع	و
1	3

التمرين الرابع:

اُكْتُبِ العَدَدَ الَّذِي يَسْبِقُ وَالْعَدَدَ الَّذِي يَلِي :

20	21	22
----	----	----

37	38	39
----	----	----

18	19	20
----	----	----

المشكلة:

تَمَلِّكُ رِيهَامَ 6 زَهْرَاتٍ ، أَعْطَتْ لِأُخْتِهَا 3 زَهْرَاتٍ .

● كَمْ زَهْرَةً بَقِيَتْ لِرِيهَامَ ؟

● $6 - 3 = 3$

● بَقِيَتْ لَهَا : 3 زَهْرَاتٍ .