





اختبار الفصل الأول في مادة الاسلامية

المدة الزمنية
ساعة ونصف

السنة أولى ابتدائي

الاسم واللقب
.....

تمرين 01 ضع ✗ امام الصورة التي تعتبر سلوك حسن



تمرين 02 اكمل سورة المسد

2

تبت 1 ماغنى

4

سيصلى 3 وامراته

5

في جيدها

تمرين 03 اجب بصحيح او خطأ

لا أسعى في طلب العلم

من لا يؤمن بالله لا ينفعه ماله ولا قوته

انا طفل ازور اقاربي وأنقطع عنهم

احترم الكبار واطيعهم ولا اقدم لهم المساعدة

الدراسة منبع تحقيق
الأحلام